



Datum: _____ | Name: _____ | Punkte: ____ / 68 | Note: _____

Aufgabe 1 - Benennen Sie die Töne und den Oktavbereich! _____ / 12 Punkte



a) _____ b) _____ c) _____ d) _____ e) _____ f) _____

Aufgabe 2 - Ergänzen Sie einen zweiten Ton im Abstand des angegebenen Intervalls! _____ / 8 Punkte



a) R4 ↑ b) G7 ↑ c) V6 ↓ d) Ü7 ↓ e) G2 ↑ f) K6 ↑ g) R8 ↓ h) K9 ↓

Aufgabe 3 - Bestimmen Sie das Intervall zwischen den beiden Tönen! _____ / 6 Punkte



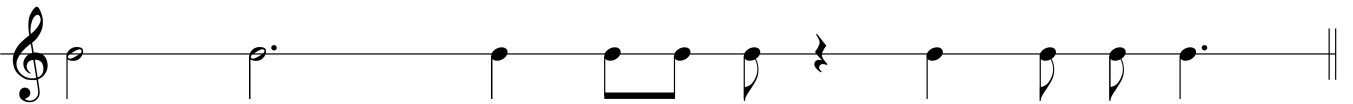
a) _____ b) _____ c) _____ d) _____ e) _____ f) _____

Aufgabe 4 - Notieren Sie die angegebenen Dreiklänge in Grundstellung! _____ / 12 Punkte

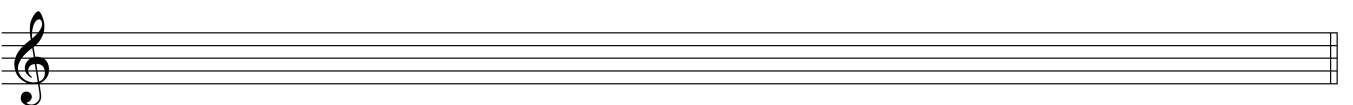


a) Dur ↓ b) Moll ↓ c) Dur ↑ d) Moll ↑ e) Verm. ↓ f) Überm. ↑


Aufgabe 5 - Übertragen Sie den angegebenen Rhythmus in den 4/4-Takt! _____ / 10 Punkte



Aufgabe 6 - Transponieren Sie die notierte Melodie nach Des-Dur! _____ / 12 Punkte



Aufgabe 7 - Benennen Sie die folgende Tonleiter! _____ / 8 Punkte





Datum: _____ | Name: _____ | Punkte: ____ / 68 | Note: _____

Aufgabe 1 - Benennen Sie die Töne und den Oktavbereich! _____ / 12 Punkte



- a) gis' b) heses' c) f d) gis e) Bb f) d'

Aufgabe 2 - Ergänzen Sie einen zweiten Ton im Abstand des angegebenen Intervalls! _____ / 8 Punkte



- a) R4 ↑ b) G7 ↑ c) V6 ↓ d) ü7 ↓ e) G2 ↑ f) K6 ↑ g) R8 ↓ h) K9 ↓

Aufgabe 3 - Bestimmen Sie das Intervall zwischen den beiden Tönen! _____ / 6 Punkte




- a) K2 b) G7 c) R5 d) Ü5 e) Ü4 f) V10

Aufgabe 4 - Notieren Sie die angegebenen Dreiklänge in Grundstellung! _____ / 12 Punkte



- a) Dur ↓ b) Moll ↓ c) Dur ↑ d) Moll ↑ e) Verm. ↓ f) Überm. ↑

Aufgabe 5 - Übertragen Sie den angegebenen Rhythmus in den 4/4-Takt! _____ / 10 Punkte



Aufgabe 6 - Transponieren Sie die notierte Melodie nach Des-Dur! _____ / 12 Punkte



Aufgabe 7 - Benennen Sie die folgende Tonleiter! cis-Moll (rein) _____ / 8 Punkte

